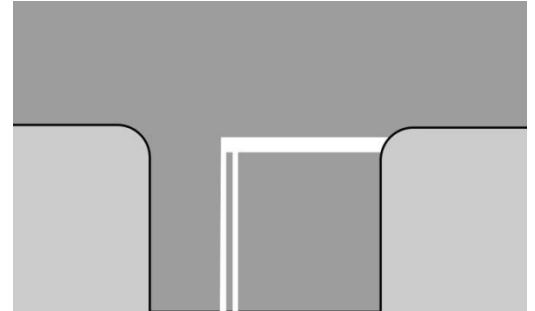


**1. Sygnał żółty migający w sygnalizacji świetlnej oznacza, że:**

- a) wjazd na skrzyżowanie jest dozwolony, ale tylko z zachowaniem szczególnej ostrożności pod warunkiem stosowania się do obowiązujących przepisów oraz znaków drogowych regulujących ruch na tym skrzyżowaniu,
- b) sygnalizacja uległa awarii,
- c) zawsze pierwszeństwo przejazdu mają nadjeżdżający z prawej strony.

**2. Widząc takie oznakowanie na jezdni, którą jedzie, rowerzysta:**

- a) nie może kontynuować jazdy bez zatrzymania się,
- b) zawsze musi ustąpić pierwszeństwa pojazdom nadjeżdżającym z lewej strony,
- c) nie może kontynuować jazdy bez zasygnalizowania.



**3. W czasie wyprzedzania innego rowerzysty należy zachować od niego odstęp:**

- a) minimum 0,5 m,
- b) minimum 1m,
- c) bezpieczny, przepisy ruchu drogowego nie precyzują jaki.

**4. Kierującemu rowerem zabrania się wyprzedzania:**

- a) w tunelach, mostach i wiaduktach,
- b) z lewej strony uczestnika ruchu, który sygnalizuje zamiar skrętu w lewo,
- c) na skrzyżowaniu, gdy ruch jest kierowany.

**5. Jadąc rowerem po jezdni i widząc ten znak:**

- a) możesz zawrócić na najbliższym skrzyżowaniu,
- b) możesz skręcić w lewo na najbliższym skrzyżowaniu,
- c) nie możesz zawrócić na najbliższym skrzyżowaniu.



**6. Przechodzenie przez drogę o dwóch jezdniach jest:**

- a) dopuszczalne poza obszarem zabudowanym, jeżeli odległość od najbliższego przejścia przekracza 50 metrów i pod warunkiem ustąpienia pierwszeństwa pojazdom,
- b) dozwolone na obszarze zabudowanym tylko na przejściach dla pieszych,
- c) dozwolone zawsze, jeżeli odległość od wyznaczonego przejścia przekracza 100 metrów.

**7. Rower musi być obowiązkowo wyposażony w:**

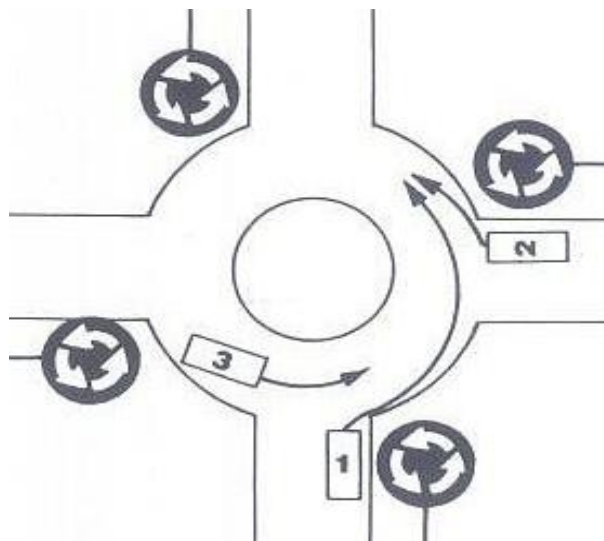
- a) tylko jedno światło przednie białe lub żółte świecące światłem ciągłym, lub migającym,
- b) tylko jeden sprawny hamulec,
- c) z tyłu w co najmniej jedno światło pozycyjne barwy czerwonej.

**8. Holowanie roweru przez kierującego pojazdem:**

- a) jest dopuszczalne jeżeli kierujący pojazdem ciągnącym ma ukończone 17 lat,
- b) jest dopuszczalne tylko jeżeli holowany rower jest niesprawny,
- c) jest zabronione.

**9. W przedstawionej sytuacji kierujący pojazdem nr 1:**

- a) ustępuje pierwszeństwa pojazdowi 3,
- b) ma pierwszeństwo przed pojazdem 2,
- c) ustępuje pierwszeństwa pojazdowi 2.



10. Który znak uprzedza o zbliżeniu się do drogi z pierwszeństwem przejazdu:

a.



b.



c.



11. Janek wczoraj obchodził swoje 16 urodziny. Posiada kartę rowerową. Czy zgodnie z przepisami ruchu drogowego może jutro zawieźć swoim rowerem z dodatkowym siodelkiem zapewniającym bezpieczną jazdę swojego pięcioletniego brata do przedszkola? :

a) nie,

b) tylko jeżeli brat wyrazi na to zgodę,

c) tak.

12. Czy przedstawiona na zdjęciu mama ze swoją 8 letnią córką jadą prawidłowo? :

a) tak,

b) nie ponieważ powinny jechać prawą stroną jezdni,

c) nie, ponieważ nie mogą się poruszać po jezdni.



13. Czy rowerzysta jadący po jezdni może przy dojeżdżaniu do wierzchołka wzniesienia wyprzedzić innego rowerzystę? :

a) nie,

b) tak,


c) tak, ale tylko z jego prawej strony.

14. Rowerzysta jadący jezdnią na której świeci się taki sygnał:

a) może skręcić w prawo,

b) może skręcić w prawo po uprzednim zatrzymaniu się przed skrzyżowaniem,

c) nie powinien sygnalizować zamiaru skrętu.



15. W ile minimalnie świateł pozycyjnych barwy białej lub żółtej selektywnej musi być wyposażony przedstawiony na zdjęciu pojazd:

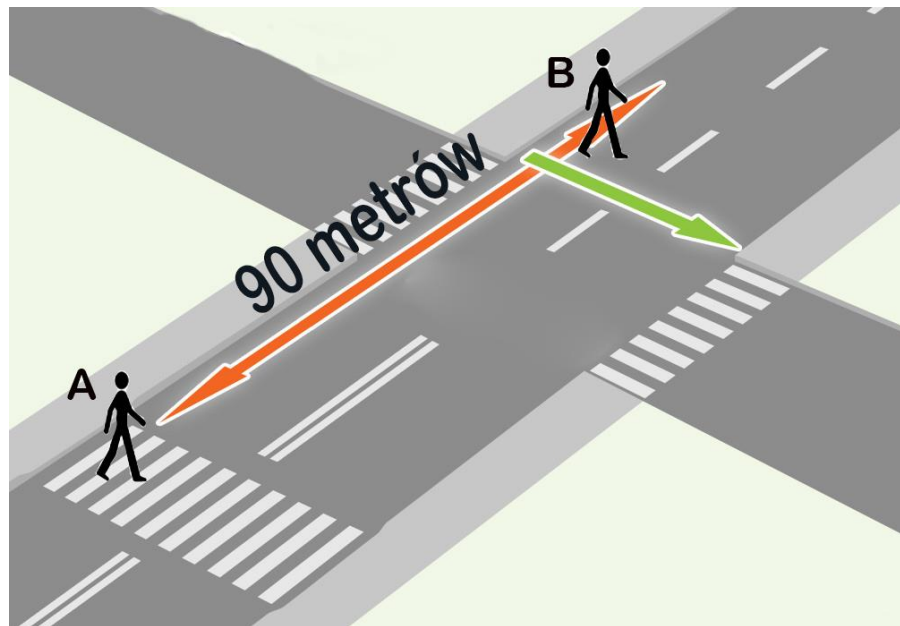
- a) jedno,
- b) dwa,
- c) trzy.

Z uwagi na brak w pytaniu informacji o szerokości przyczepki przyjęto, że właściwa jest odpowiedź A i B.



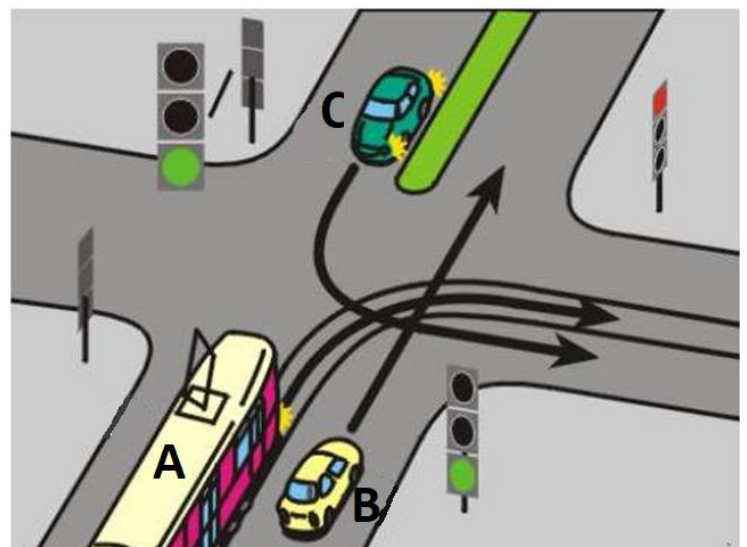
16. Który pieszy prawidłowo przechodzi przez jezdnię:

- a) pieszy B,
- b) pieszy A,
- c) obaj.



17. Na tym skrzyżowaniu:

- a) pojazd A ustępuje pierwszeństwa pojazdowi B,
- b) pojazd A ustępuje pierwszeństwa pojazdowi B i C,
- c) pojazd B ustępuje pierwszeństwa pojazdowi A.



**18. Janek i Robert uczestniczą w tej samej wycieczce rowerowej. Z uwagi na dużą liczbę uczestników jadą w dwóch różnych kolumnach. Czy w czasie jazdy zgodnej z przepisami uda im się porozmawiać ze sobą przez krótkofalówki, których maksymalny zasięg wynosi 150 metrów? :**

a) tak,

b) nie,

c) tak ale krótkofalówki muszą być wyposażone w tak zwane urządzenie głośnomówiące, umożliwiające rozmowę bez trzymania ich w rękach

**19. Jadąc po jezdni w czasie mgły kierujący rowerem:**

a) może wyprzedzić innego rowerzystę,

b) poza obszarem zabudowanym musi w czasie wyprzedzania dawać krótkotrwałe sygnały dźwiękowe,

c) nie może wyprzedzać.

**20. Czy widoczna na zdjęciu rowerzystka jadzie prawidłowo?:**

a) nie,

b) tak ponieważ jest bezpośrednio przed skrzyżowaniem,

c) tak ponieważ zamierza jechać prosto.



Test jednokrotnego wyboru. Odpowiedzi prawidłowe zaznaczono kolorem niebieskim.